

وقت: 10 منٹ


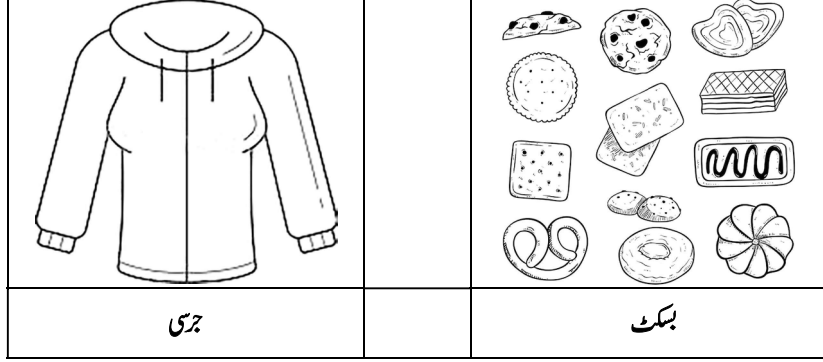
واقفیت عامہ (دوم) ٹیسٹ نمبر 1

کل نمبر: 10

چوتھا مہینا، دوسرا ہفتہ، پہلا دن **اسلیپس**: باب نمبر 9 (دوسرا نصف): مشق سوال نمبر 1, 2

(3x2=6)

سوال نمبر 1- مندرجہ ذیل اشیاء کن فصلوں سے بنی ہیں؟



(4)

سوال نمبر 2- مویشیوں سے حاصل ہونے والی کوئی سی چار چیزوں کے نام لکھیں۔

- (i) _____
- (ii) _____
- (iii) _____
- (iv) _____

وقت: 10 منٹ


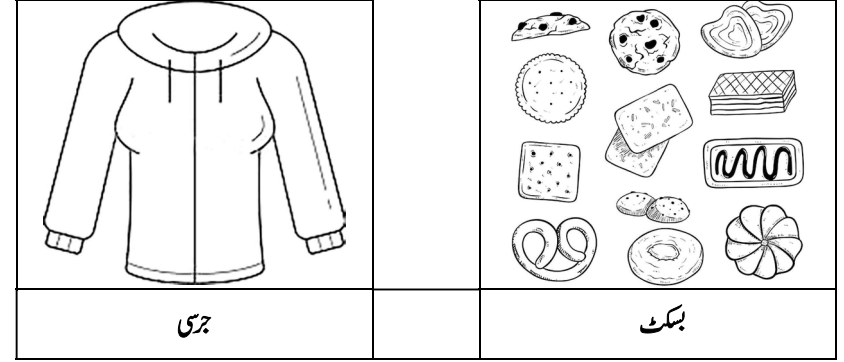
واقفیت عامہ (دوم) ٹیسٹ نمبر 1

کل نمبر: 10

چوتھا مہینا، دوسرا ہفتہ، پہلا دن **اسلیپس**: باب نمبر 9 (دوسرا نصف): مشق سوال نمبر 1, 2

(3x2=6)

سوال نمبر 1- مندرجہ ذیل اشیاء کن فصلوں سے بنی ہیں؟



(4)

سوال نمبر 2- مویشیوں سے حاصل ہونے والی کوئی سی چار چیزوں کے نام لکھیں۔

- (i) _____
- (ii) _____
- (iii) _____
- (iv) _____